




SE POSITIONNER SUR LA CHAUSSÉE

Sur la route, les cyclistes doivent rouler autant que possible près du bord droit de la chaussée.

Observe le dessin, lis les phrases et raye celles qui sont fausses.



Dans cette petite rue, la cycliste :

- est bien placée sur la chaussée.
- roule trop près du trottoir.
- doit regarder juste devant sa roue.
- voit bien ce qui arrive en face d'elle.

Observe le dessin puis découpe le cycliste et colle-le au bon endroit (A, B ou C).



A B C



Explique ton choix.


La meilleure position pour rouler sur cette route est la position parce que :

.....

.....

Lorsque les cyclistes longent une file de voitures en stationnement, ils doivent s'en écarter et être attentifs pour prévoir ce qui peut se passer.

 **Observe le dessin, puis lis chaque phrase et indique si c'est VRAI ou FAUX en mettant une croix dans la bonne case.**




Le cycliste :

VRAI FAUX

- est à la bonne place sur la chaussée.
- risque de heurter une portière de voiture.
- doit se méfier des voitures qui peuvent démarrer.

Les cyclistes peuvent rouler à deux de front lorsqu'ils ne gênent personne et qu'ils sont bien visibles. Mais, c'est toujours plus sûr de rouler en file indienne.

 **Observe le dessin, puis lis chaque phrase et indique si c'est VRAI ou FAUX en mettant une croix dans la bonne case.**



Quel est le danger pour les cyclistes ? :

VRAI FAUX

- Aucun car la rue est large.
- Aucun car ils ne roulent pas vite.
- Être heurtés par une voiture.

Que devraient-ils faire ?

- Se serrer un peu.
- Rouler en file indienne.
- Rien car ils ne prennent pas plus de place qu'une voiture.

 **Donne ton avis.**

Pourquoi les cyclistes aiment-ils rouler l'un à côté de l'autre ?

.....

Pourquoi est-ce dangereux ?

.....